



Guía de Matemática

Nombre: _____

Fecha: _____ **Curso:** _____



Objetivo:

OA 1: Contar números del 0 al 100 de 1 en 1, de 2 en 2, de 5 en 5 y de 10 en 10, hacia adelante y hacia atrás, empezando por cualquier número menor que 100.

Mamita:

- 1. Realice esta guía junto a su hijo o hija, en algunas ocasiones usted deberá leerle las actividades que él o ella debe realizar y en otras la podrá hacer solito o solita sin su ayuda.*
- 2. Esta guía ha sido desarrollada a partir del libro de Matemática segundo año "SUMO PRIMERO- SEGUNDO AÑO"*
- 3. Guardé las guías desarrolladas, las cuales se deberán entregar el **primer día** de la vuelta a clases, si las guías no son entregadas en esa fecha se ira descontando 0,5 décimas por cada día de atraso, a la nota final de la guía.*
- 4. Si lo desea y puede; fotografíe o escanee las guías desarrolladas y las envía a mi email paerices@gmail.com.*


1.- Cuántas estampillas hay.



10 grupos de 10 unidades \rightarrow 100

 Ejercicio

a) 10 sobres de 10 láminas es igual a láminas.

b) 10 monedas de  es igual a pesos.



2.- Completa los números que faltan.

| | | | | | | | | | |
|----|----|----|----|----|----|----|----|----|-----|
| 1 | 2 | 3 | 4 | 5 | 6 | 7 | 8 | 9 | 10 |
| 11 | 12 | 13 | 14 | 15 | 16 | 17 | 18 | 19 | 20 |
| 21 | 22 | 23 | 24 | 25 | 26 | 27 | 28 | 29 | 30 |
| 31 | 32 | 33 | 34 | 35 | 36 | 37 | 38 | 39 | 40 |
| | | | | | | | | | 50 |
| | | | | | | | | 59 | |
| 61 | | | | 65 | | | | | 70 |
| | | | | | | | | | |
| 81 | | | | | | | | 89 | 90 |
| | | | | | 96 | | 98 | | 100 |

3.- Encierra el número mayor en cada caso.

- a) b) c)

4.- Completa

- a) 3 más que 97 es igual a
- b) 10 menos que 100 es igual a

#QuiedateenCasa

Contar hasta 100

1.- ¿Cuántas monedas necesitamos, para hacer \$100?

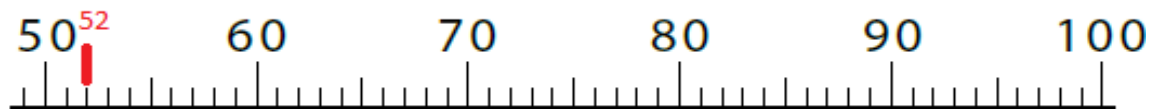


100 → \$ 100 → 10 monedas de \$10

Ejercicios

1. Marca en la recta numérica los siguientes números. Comprueba contando.

67, 76, 84, 92.... Ejemplo 52



2. Completa

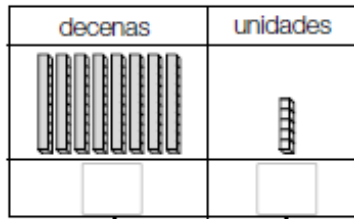
a) 85 es la suma de grupos de 10 y 5 grupos de 1.

b) 85 es la suma de grupos de 1.

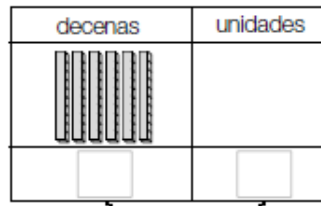
c) 100 es la suma de grupos de 10 o grupos de 1.

Repaso

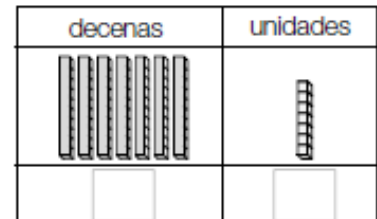
1. ¿Cuántos cubos hay?



unidades



unidades.

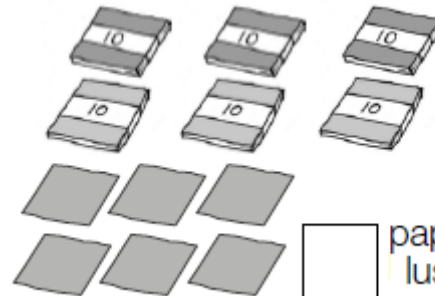


unidades.

2. ¿Cuántos hay?



lápices.



papeles.
lustre

3. Completa

a) 9 decenas y
4 unidades son:

b) 7 decenas y
8 unidades son:

c) 6 decenas son:

d) 8 decenas y
2 unidades son:

e) 9 decenas y
5 unidades son:

10 decenas es igual a:

10 monedas de 10 pesos es igual a:

4. Completa con el o los números que faltan

a)

| | | | | | |
|----|----|--|----|--|----|
| 71 | 72 | | 74 | | 76 |
|----|----|--|----|--|----|

b)

| | | | | | |
|----|----|----|--|----|--|
| 94 | 95 | 96 | | 98 | |
|----|----|----|--|----|--|

c)

| | | | | | |
|----|--|----|--|----|----|
| 77 | | 79 | | 81 | 82 |
|----|--|----|--|----|----|

d)

| | | | | | |
|----|----|--|----|----|--|
| 92 | 91 | | 89 | 88 | |
|----|----|--|----|----|--|

5. Encierra el mayor.

a) 83 84

b) 61 59

c) 62 72

d) 98 100

6. Descubre el número.

a) 5 más que 95 es igual a: b) 8 menos que 100 es igual a

Anexo Feliz Pascua de Resurrección.

Pinta este rompecabezas

